





**"Φυσικά – Ερευνώ και Ανακαλύπτω"**  
της Ε' ή Στ' Τάξης του Δημοτικού Σχολείου

**υπόδειγμα**

**Φύλλο Αξιολόγησης**

Θέμα: .....

**α.** Ποιες εικόνες σου θυμίζουν το θέμα που μελετήσατε και προκαλούν το ενδιαφέρον σου γι'αυτό;

	<input type="checkbox"/>		<input type="checkbox"/>		<input type="checkbox"/>		<input type="checkbox"/>
---	--------------------------	---	--------------------------	--	--------------------------	---	--------------------------


(Σημείωσε τις εικόνες που επιλέγεις με ✓ στο αντίστοιχο τετραγωνίδιο )

**β.** Ποια από τις παρακάτω υποθέσεις αποδείχθηκε με το πείραμα σωστή;

α) _____	<input type="checkbox"/>
β) _____	<input type="checkbox"/>
γ) _____	<input type="checkbox"/>

(Σημείωσε τη σωστή υπόθεση με ✓ στο αντίστοιχο τετραγωνίδιο )

**γ.** Περιγράψε τα πειράματα που έκανες και που φαίνονται στις παρακάτω εικόνες:

<p>α)</p> 	<p>Όργανα – Υλικά: .....</p> <p>Περιγραφή:.....</p> <p>.....</p> <p>.....</p> <p>.....</p> <p>.....</p> <p>.....</p> <p>.....</p> <p>.....</p> <p>.....</p> <p>.....</p>
---	--

β)

Όργανα – Υλικά: .....

.....

Περιγραφή:.....

.....

.....

.....

.....

.....

.....

δ. Ξαναγράψε, με τη βοήθεια των παρακάτω λέξεων ή φράσεων, τα συμπεράσματα που έβγαλες από τα παραπάνω πειράματα:

α) .....

.....

β) .....

.....

Εξήγησε τα παρακάτω φαινόμενα, εφαρμόζοντας τα συμπεράσματά σου:

α)

.....

.....

.....

β)

.....

.....

.....

ε. Συμπλήρωσε τα κενά των παρακάτω προτάσεων, με τις λέξεις ή φράσεις που δίνονται :

α) \_\_\_\_\_, \_\_\_\_\_, \_\_\_\_\_, \_\_\_\_\_, \_\_\_\_\_

.....

.....

.....

β) \_\_\_\_\_, \_\_\_\_\_, \_\_\_\_\_, \_\_\_\_\_, \_\_\_\_\_

.....

.....

.....