

















Κεφάλαιο 5: Σήματα τροχαίας και σήμανση οδοστρώματος

ΣΗΜΑΤΑ ΤΡΟΧΑΙΑΣ: Τα σήματα τροχαίας (πινακίδες) που συναντούμε καθημερινά στο δρόμο, μπορούμε να τα διακρίνουμε, ανάλογα με το σχήμα, χρώμα και ρόλο που επιτελούν, στις ακόλουθες κατηγορίες:

ΡΥΘΜΙΣΤΙΚΑ ΣΗΜΑΤΑ	<p>Υποχρεωτικά: Είναι συνήθως κυκλικά, χρώματος μπλε με λευκή σήμανση. Υποδεικνύουν την κατεύθυνση ή κάποιους κανονισμούς τους οποίους είμαστε υποχρεωμένοι να ακολουθήσουμε.</p>	
	<p>Απαγορευτικά: Είναι συνήθως λευκά με κόκκινο περίγραμμα και υποδεικνύουν τι πρέπει ή δεν πρέπει να κάνουμε. Η παράβασή τους συνιστά αδίκημα και η συμμόρφωση σ' αυτά είναι υποχρεωτική.</p>	
ΠΡΟΕΙΔΟΠΟΙΗΤΙΚΑ ΣΗΜΑΤΑ ΚΙΝΔΥΝΟΥ	<p>Είναι συνήθως λευκά, τριγωνικά με κόκκινο περίγραμμα. Μας προειδοποιούν για κινδύνους που μπορεί να συναντήσουμε στο δρόμο.</p>	
ΚΑΤΕΥΘΥΝΤΗΡΙΑ ΣΗΜΑΤΑ	<p>Είναι συνήθως ορθογώνια και δίνουν χρήσιμες πληροφορίες στους χρήστες των δρόμων σχετικά με την κατεύθυνση που θέλουν να ακολουθήσουν.</p>	
ΠΛΗΡΟΦΟΡΙΑΚΑ ΣΗΜΑΤΑ	<p>Είναι ορθογώνια και δίνουν χρήσιμες πληροφορίες στους χρήστες των δρόμων.</p>	

ΦΥΛΛΟ ΕΡΓΑΣΙΑΣ 1

- Παρατήρησε προσεκτικά τα παρακάτω σήματα.

1 	2 	3 	4 
5 	6 	7 	8 
9 	10 	11 	12 
13 	14 	15 	16 

Ποια από τα παραπάνω σήματα θα ήταν πιο πιθανό να συναντούσες:

ΣΤΟΝ ΑΥΤΟΚΙΝΗΤΟΔΡΟΜΟ	ΣΕ ΕΝΑ ΚΥΡΙΟ ΔΡΟΜΟ	ΣΕ ΕΝΑ ΟΡΕΙΝΟ ΔΡΟΜΟ ΠΟΥ ΕΝΩΝΕΙ ΔΥΟ ΧΩΡΙΑ

Βάλε τον αριθμό του κάθε σήματος στην κατάλληλη στήλη. Δικαιολόγησε την απάντησή σου.

ΕΡΕΥΝΑ

- Δείξε τα σήματα της προηγούμενης σελίδας σε ένα μέλος της οικογένειάς σου, που έχει άδεια οδηγού, και ζήτησέ του να σου πει τι σημαίνει το καθένα από αυτά.
- Κατάγραψε την κάθε απάντηση κάτω από το ανάλογο σήμα και έλεγξε την ορθότητά τους χρησιμοποιώντας τα σήματα που περιέχονται στο παράρτημα του βιβλίου σου, σελ.
- Ανακοίνωσε τα αποτελέσματα της έρευνάς σου στην τάξη. Αφού ακούσεις και τις απαντήσεις των συμμαθητών σου, συμπλήρωσε:
 - Συνολικός αριθμός ατόμων που ρωτήθηκαν.....
 - Συνολικός αριθμός ατόμων που απάντησαν ορθά για όλα τα σήματα τροχαίας:.....
 - Συνολικός αριθμός ατόμων που απάντησαν λανθασμένα, έστω και για ένα σήμα τροχαίας :.....

ΣΥΜΠΕΡΑΣΜΑ

.....

.....

.....

.....

.....

ΦΥΛΛΟ ΕΡΓΑΣΙΑΣ 2

- Διάβασε τα παρακάτω σενάρια και σχεδίασε το κατάλληλο σήμα για κάθε περίπτωση:

Σήμα που τοποθετείται πριν από οδική συμβολή (διασταύρωση) που ελέγχεται από φώτα τροχαίας	
Σήμα που τοποθετείται κοντά σε διάβαση πεζών τύπου ΖΕΠΡΑ	
Σήμα που τοποθετείται στην αρχή ενός πεζόδρομου ή ποδηλατόδρομου	
Σήμα που τοποθετείται κοντά σε δρόμο με προτεραιότητα και υποχρεώνει τους οδηγούς να σταματήσουν.	
Σήμα που τοποθετείται στην αρχή ενός αδιέξοδου δρόμου.	
Σήμα που τοποθετείται κοντά σε σχολείο	

ΑΝ ΚΑΠΟΙΟΣ ΔΕ ΓΝΩΡΙΖΕΙ Η ΔΕΝ ΥΠΑΚΟΥΕΙ ΣΤΑ ΣΗΜΑΤΑ ΤΡΟΧΑΙΑΣ ΜΠΟΡΟΥΝ ΝΑ ΔΗΜΙΟΥΡΓΗΘΟΥΝ ΠΟΛΛΑ ΠΡΟΒΛΗΜΑΤΑ.
ΣΚΕΨΟΥ ΜΕΡΙΚΑ

ΦΥΛΛΟ ΕΡΓΑΣΙΑΣ 3

Χρησιμοποιώντας τα περιγράμματα των παρακάτω οδικών σημάτων, σχεδίασε 3 σήματα για κάθε κατηγορία σημάτων, που θα μπορούσαν να τοποθετηθούν στην τάξη ή και την αυλή του σχολείου σου για να ρυθμίζουν, όχι την κυκλοφορία των οχημάτων, αλλά τη συμπεριφορά των μαθητών. Γράψε και τι σημαίνει το καθένα από αυτά.

ΚΩΔΙΚΑΣ ΣΧΟΛΙΚΗΣ ΣΥΜΠΕΡΙΦΟΡΑΣ			
Απαγορευτικά	Υποχρεωτικά	Προειδοποιητικά	Πληροφορικά
